

1. Самотлорское нефтяное месторождение 2. Приобское нефтяное месторождение 3. Лянторское нефтегазоконденсатное месторождение 4. Талаканское нефтегазоконденсатное месторождение

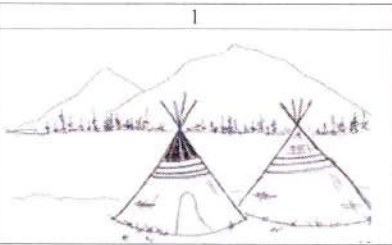



Ответ: 1 2

9.2. Из чего традиционные народы Севера - ханты шили одежду? (3 балла)

1. Крапива  
 2) Шкура оленя  
 3. Шкура рыбы  
 4. Шкура лягушки

Ответ: \_\_\_\_\_

9.3. Соотнеси названия предметов быта коренных народов Севера с изображениями этих предметов, вписав в таблицу их номера. (4 балла)

1	2
	
3	4
	

Ответ:

бубен <u>1</u>	чум <u>1</u>	нарты <u>1</u>	лямпы <u>1</u>
<u>2</u>		<u>4</u>	<u>3</u>

ВСЕГО 80 БАЛЛОВ.

*Ишигов Баир Владимирович  
 Мерской Евгений Александрович  
 Марковская Юлия Константиновна*

90

**Всероссийская олимпиада школьников по истории**  
2024/25 учебный год  
Школьный этап

**Задания для участников 5-х классов**

**Инструкция по выполнению работ**  
Время на выполнение работы – 45 минут.  
Максимальное количество баллов – 80.

**Уважаемый участник!**

При выполнении работы внимательно читай текст заданий. Содержание ответа вписывай в отведённые поля, записи веди чётко и разборчиво.

За каждый правильный ответ можно получить определённое количество баллов, но не выше указанной максимальной оценки. Сумма набранных баллов за все решённые вопросы – итог работы.

Задания считаются выполненными, если Вы вовремя сдали их членам жюри.

**Желаем успеха!**

Шифр 5008

Таблица для внесения баллов заполняется членами жюри

1	2	3	4	5	6	7	8	9	Общая сумма баллов	Место
10	10	2	3	6	4	5	2	9	51	

**Задание 1.** Выберите правильный ответ (по 1 баллу за каждый правильный ответ. Максимальный балл - 10)

1. Древнейшие люди жили на территории:

- А) Восточной Африки;
- Б) Западной Азии;
- В) Испании.

2. Первое орудие труда первобытного человека:

- А) Плуг;
- Б) Мотыга;
- В) Заостренный камень.

3. Первый металл, из которого древние люди научились делать орудия труда:

- А) Медь;
- Б) Бронза;
- В) Золото.

4. Какое занятие относится к производящему типу хозяйства:

- А) Собирательство;
- Б) Земледелие;
- В) Охота.

5. Первое домашнее животное, прирученное человеком:

- А) Лошадь;
- Б) Овца;
- В) Собака.

6. Как называется объединение семей, живущих в одной местности и отдельно ведущих хозяйство и владеющих своим имуществом:

- А) Род;
- Б) Соседская община;
- В) Человеческое стадо.

7. Столица египетского царства:

- А) Мемфис;
- Б) Фивы;
- В) Ахетатон.

8. Орудие труда, при помощи которого первобытные люди ловили рыбу:

- А) Лук;
- Б) Рубило;
- В) Гарпун.

9. Когда появился человек на земле?

- А) 2 млн. лет назад;
- Б) 100 тыс. лет назад;
- В) 10 тыс. лет назад.

10. Выберите причину появления религии:

- А) Неумение человеком объяснять явления природы;
- Б) Боязнь человека перед стихией природы;
- В) Желание человека отличаться от животных.


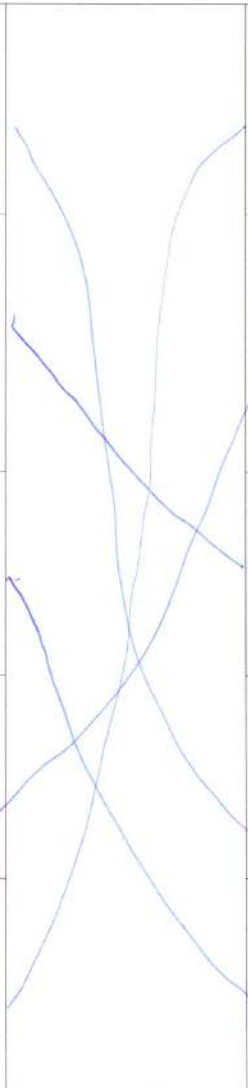









Ответ:

1	2	3	4	5	6	7	8	9	10
А	В	А	В	В	А	В	В	А	В

**Задание 2.** (по 2 балла за каждое правильное соответствие. Максимальный балл - 10)

Многие известные нам сегодня орудия труда ведут свою историю с древнейших времён. Тогда они были просты, примитивны и, тем не менее, выполняли свою функцию. Рассмотрите представленные изображения и соедините попарно древние орудия труда с их современными «потомками»

Примитивные орудия труда	Современный аналог

А) 		1 
Б) 		2 
В) 		3 
Г) 		4 
Д) 		5 

А) 2
Б) 2
В) 2
Г) 2
Д) 2  
А) 4
Б) 3
В) 5
Г) 2
Д) 1
100

--	--	--	--	--	--

**Задание 3.** (Максимум за задание – 5 баллов).

Расставьте годы и века в верной хронологической последовательности (впишите в таблицу только цифры 1-5).

- 1) IV век до н. э. 2) 490 год до н. э. 3) 1945 год н. э. 4) XIII век н. э. 5) 2024 год н. э.

Ответ: 

1	4	2	3	5
---	---	---	---	---

25


**Задание 4.** (Максимум за всё задание 12 баллов. Первое задание 3 балла, второе задание 3 балла, третье задание 6 баллов).

Рассмотрите рисунок. Он взят из самой древней египетской книги.

А) Укажите название книги

Б) Укажи материал, из которого была изготовлена книга.

В) Опиши событие, изображенное древними египтянами.



Ответ:

А) 0

Б) Папирус и перламутр 3

В) Похоронение человека 0

---

---

---

---

---

---

---

---


30



Задание 5. (Максимум за всё задание 8 баллов).

Перед вами фотографии, иллюстрирующие деятельность историков.

5.1. (Максимум за задание – 3 балла, по 1 баллу за каждый верный ответ). Выберите номера изображений, связанных с работой историков с письменными источниками



5.1 Ответ: 5, 6

1

5.2. (Максимум за задание – 5 баллов, по 1 баллу за каждое верно выбранное утверждение).

Выбери верные и неверные утверждения. Ответы («да» – «нет») вноси в таблицу.

1. Все профессии ученых, изображенных на картинке, связаны с работой с письменными источниками

- Работа этих ученых связана с изучением жизни современных людей.
- В своей работе ученые определяют достоверность источника.
- В ходе работы ученые проводят раскопки.
- Ученые этой профессии определяют авторство письменного источника.

Ответ: 

1	2	3	4	5
нет	нет	да	да	да

 5

60

Задание 6. (Максимум за задание 16 баллов, по 2 балла за каждую найденную и исправленную ошибку).

Найдите 8 исторических ошибок в сочинении ученика и исправьте их, заполнив таблицу.

Восточная Африка более двух миллионов лет назад. Вот движется группа похожих на обезьян людей. Первобытные люди осваивают новую родину, переселившись из Азии. На горизонте виден ледник, который медленно движется на север. Все спешат уйти от непогоды - небо почернело от туч. Только двое веселых мальчишек увлеченно о чем-то разговаривают. Внезапно повалил сильный снег, все сразу продрогли, даже одежда из звериных шкур не могла защитить людей от холода. Наконец они спрятались в пещере. Тут же достали из-за пазух и стали жевать коренья, орехи и черствый хлеб. Чтобы согреться они разожгли огонь. Вдруг все застали от ужаса: к пещере приближается страшный хищник - огромный динозавр.

Ошибка	Исправление
1 из Азии 2	из Африки 2
2 стали жевать черствый хлеб и коренья орехи и черствый хлеб 0	стали жевать коренья орехи и хлеб 0
3 огромный динозавр 0	собака 0
4 далее одежда из звериных шкур 0	одежда не было 0
5 из-за непогоды 0	одежда еще 0
6 разожгли огонь 0	копейки еще не 0
7	ушел разожгли 0

46

8	
---	--

**Задание 7.** (Максимум за задание – 5 баллов)

Решите задачи. ОБЯЗАТЕЛЬНО напишите арифметические действия.

1) В 2000 году археологами был раскопан могильник вождя, где найдены остатки бус из драгоценных камней, золотые и серебряные сосуды. Установлено, что захоронение было сделано за 6240 лет до его находки археологами. В каком году был захоронен вождь? Запишите решение и ответ. (2 балла)

**Решение**

$6240 - 2000 = 4240$

20

2) Считается, что самая высокая пирамида Хеопса была построена в 2600 г. до н.э. А самые крупные завоевания совершил фараон Тутмос в 1500 г. до н.э. Сколько лет прошло между этими событиями? Сколько лет назад была построена пирамида Хеопса? Приведите свои вычисления. (3 балла)

**Решение**  
 $2600 - 1500 = 1100$  лет прошло.  
 $2600 + 2024 = 4624$  лет назад

50

**Задание 8.** (Максимум за задание – 5 баллов)

Прочитайте стихотворение. Выполните задания.

Человек – дитя природы, Тут ничто не изменить. И однажды природа решила От животных его отделить! Наделила умом и смекалкой, Научила плоды собирать, А потом подсказала, что палкой Можно лунки в земле раскопать. Положить в них пшеничное семя И почаще его поливать	И тогда вдруг наступит то время, Когда можно зерно собирать. Эволюция шла, убыстрялась. Человек долго палкой копал, А природа, глядя, ухмылялась, Как он всё по чуть-чуть узнавал. И однажды он понял, что мало У него вырастает зерна. Взял широкую кость для начала.	Так в то время возникла лопата, Но она очень ломкой была. Человек взял загнутую палку И настало тут время тесла. Ну а вскоре решил на тесло он Надеть от животных рога, Или острую кость, или камень. И вот это мотыга была.
---	--	--

	Посмотрел, как копает она?	
--	----------------------------	--

8.1. Напишите, о возникновении, какого занятия древних людей идёт речь (1 балл)

земледелие 1

8.2. Укажите, когда это занятие возникло (1 балл)

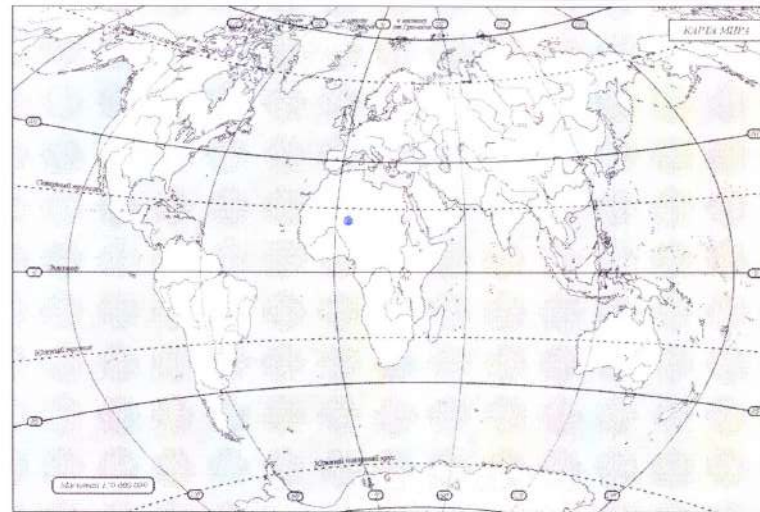
20

8.3. Укажите не менее двух других орудий труда, которые человек использовал в этом занятии. (2 балла)

палка, мотыга 1

8.4. Напишите на карте название материка, где возникло занятие героя стихотворения. (1 балл)

0



**Задание 9.** Выясни, насколько ты знаком с историей своей «малой родины» Югры. (Максимум за задание – 9 баллов).

9.1. Выберите месторождение нефти, которое находится под дном озера и получило свое название в его честь. (2 балла)