

**Всероссийская олимпиада школьников по истории  
2023/24 учебный год  
Школьный этап**

**5 класс**

**Задание 1.** Перед вами фотографии, иллюстрирующие различные эпохи истории человечества. Выберите номера изображений, связанных с историей Древнего мира.

1



3

2




4



5



6



**Ответ:** 1,3,6

**Задание 2.** Верны ли следующие утверждения («да» – «нет»)? Ответы внесите в таблицу.

- 2.1. Около 2,5 млн лет назад появились люди, по своему облику похожие на современного человека.
- 2.2. Самая длительная эпоха в истории человечества – Новое время.
- 2.3. Золото было основным металлом, из которого производили орудия труда первобытные люди.
- 2.4. Коллектив кровных родственников назывался родовой общиной.
- 2.5. Люди эпохи палеолита уже умели пользоваться огнем.

2.6. Первым одомашненным животным была лошадь.

**Ответ:**

2.1	2.2	2.3	2.4	2.5	2.6
нет	нет	нет	да	да	нет

**Задание 3.** Расставьте годы и века в верной хронологической последовательности.


1) II век до н. э. 2) 478 год до н. э. 3) 1945 год н. э. 4) XII век н.э. 5) 2023 год н.э.

**Ответ:**

А	Б	В	Г	Д
2) 478 год до н. э.	1) II век до н. э.	4) XII век н.э.	3) 1945 год н. э.	5) 2023 год н.э.

**Задание 4.** Перед вами различные изобретения человека, созданные им с древнейших времён до наших дней. Рассмотрите изображения и выполните задания.


1



2



3



4



5



6



**4.1.** Соотнесите изображения предметов с их названиями.

Номер изображения предмета	Название изобретения
1	А. персональный компьютер
2	Б. паровой двигатель (паровая машина)
3	В. бензиновый двигатель внутреннего сгорания
4	Г. деревянный плуг
5	Д. шадуф
6	Е. ручной книгопечатный станок

**Ответ:**

1	2	3	4	5	6
Д. шадуф	Е. ручной книгопечатный станок	Б. паровой двигатель (паровая машина)	В. бензиновый двигатель внутреннего сгорания	Г. деревянный плуг	А. персональный компьютер



**4.2.** Расположите представленные предметы в порядке их изобретения человеком. В таблицу ниже выпишите буквы, которыми обозначены названия данных изобретений.

**Ответ:**

1	2	3	4	5	6
Г	Д	Е	Б	В	А

**Задание 5.** Перед вами фотографии, иллюстрирующие деятельность историков.

**5.1.** Выберите номера изображений, связанных с работой археологов и запишите их.

1	2
	
3	4





5.1 Ответ: 3, 4, 5

5.2. Выбери верные и неверные утверждения. Ответы («да» – «нет») внеси в таблицу.

1. Все профессии ученых, изображенных на картинке, связаны с археологией.
2. Работа этих ученых связана с изучением жизни современных людей.
3. В своей работе ученые - археологи использует лопаты и кисточки.
4. В ходе работы ученые проводят раскопки.
5. Ученые этой профессии изучают здания, украшения, наскальные рисунки, захоронения, оружие.

Ответ:

1	2	3	4	5
нет	нет	да	да	да

**Задание 6.** Прочитайте описание погребения, обнаруженного археологами на знаменитой стоянке Сунгирь во Владимирской области.

«Второе погребение, расположенное под первым, принадлежало взрослому мужчине. Покойник лежал на спине в вытянутом положении. При нем были положены кремневый нож, скребло и обломок костяного предмета. Скелет был густо засыпан охрой, и на нем лежали многочисленные бусы из бивня мамонта. Размещение бус, сохранивших первоначальное положение, позволило реконструировать одежду. Костюм состоял из нераспашной рубахи, штанов, соединённых с обувью, и, возможно, плаща. На голове была надета шапка, богата украшенная бусами из бивня и просверленных клыков песка. На руках были тонкие браслеты из бивня и нитки бус. Под коленями и на щиколотках также прослежены перевязки из связок бус. По внутренней стороне ног нашитые бусы

образовывали длинные лампасы, соединяющие штаны и обувь. Всего было нашито свыше 3 500 бусин».

Что можно из этого описания узнать о жизни, занятиях, верованиях людей, которые оставили этот памятник? **Сделайте 3 вывода.**

- 1. Занимались охотой, охотились на мамонтов, песцов, использовали каменные ножи.**
- 2. Освоили некоторые элементы ремесла: могли шить одежду, делать украшения.**
- 3. Верили в загробную жизнь.**

**Задание 7.** Найдите 8 исторических ошибок в сочинении ученика и исправьте их, заполнив таблицу.

Около 12 тысяч лет назад в природе ничего не изменилось. Похолодало, ледник стал быстро таять и отступать на юг. Приспособиться к новым условиям было легко и просто. Ломался тысячелетний уклад жизни. Пришлось осваивать охоту на крупного хищного зверя. Люди стали селиться в крупные пещеры, катакомбы. В поисках пищи племенам надо было оставаться на одном месте. Было изобретено первое механическое оружие - копьё с каменным наконечником

<b>Ошибка</b>	<b>Исправление</b>
<b>1. Около 12 тысяч лет назад в природе ничего не изменилось</b>	<b>Около 12 тысяч лет назад в природе вновь наступили грандиозные перемены.</b>
<b>2. Похолодало</b>	<b>Потеплело,</b>
<b>3. ледник стал быстро таять и отступать на юг</b>	<b>ледник стал быстро таять и отступать на север</b>
<b>4. Приспособиться к новым условиям было легко и просто.</b>	<b>Приспособиться к новым условиям было нелегко</b>
<b>5. Пришлось осваивать охоту на крупного хищного зверя.</b>	<b>Пришлось осваивать охоту на мелкую дичь, птицу, ловить рыбу.</b>
<b>6. Люди стали селиться в крупные пещеры, катакомбы.</b>	<b>Люди стали селиться в легкие шалаши.</b>
<b>7. В поисках пищи племенам надо было оставаться на одном месте.</b>	<b>В поисках пищи племенам надо было часто переходить на новые земли.</b>
<b>8. Было изобретено первое механическое оружие - копьё с каменным наконечником.</b>	<b>Было изобретено первое механическое оружие - лук со стрелами.</b>

**Задание 8.**

Решите задачи. **ОБЯЗАТЕЛЬНО** напишите арифметические действия.

1) В 1900 году археологами был раскопан могильник вождя, где найдены остатки бус из драгоценных камней, золотые и серебряные сосуды. Установлено, что захоронение было сделано за 7240 лет до его находки археологами. В каком году был захоронен вождь? Запишите решение и ответ. (2 балла)

**Решение:**  $7240 - 1900 = 5340$  год до н.э.

2) Считается, что первую пирамиду зодчий Имхотеп начал строить в 2750 г. до н.э. Последние пирамиды построены в 1700 г. до н. э. Сколько лет прошло между постройкой первой и последней пирамиды? Сколько лет назад были построены последние пирамиды? Приведите свои вычисления. (3 балла)

**Решение:** 1)  $2750 - 1700 = 1050$

**1050 лет прошло между постройкой первой и последних пирамид**

2)  $1700 + 2023 = 3723$

**3723 года назад были построены последние пирамиды**

**Задание 9.** Прочитайте стихотворение В.Д. Берестова. Выполните задания.

Раз первобытные дети Пошли в первобытный лес. И первобытное солнце Глядело на них с небес. И встретили дети в чаще Неведомого зверька, Какого ещё ни разу Не выдывали пока. Сказал первобытный папа: «Ну, что ж, поиграйте с ним, Когда он будет побольше, Мы вместе его съедим».	Ночь. Первобытные люди Спят первобытным сном, А первобытные волки, Крадутся во мраке ночном. Беда первобытным людям Во сне беззащитным таким. Как часто звериное брюхо – Могилою делалось им. Но злых людоедов почуяв, Залаял отважный зверёк.	И этим людей первобытных От гибели он уберёт С папой ходить на охоту Он начал, когда подрос. Так другом стал человеку Весёлый и верный пёс
--	---	--

**9.1** Напишите, о возникновении какого занятия древних людей идёт речь

**Ответ:** скотоводство

**9.2** Укажите, когда это занятие возникло

**Ответ:** приблизительно 10 тыс. лет назад

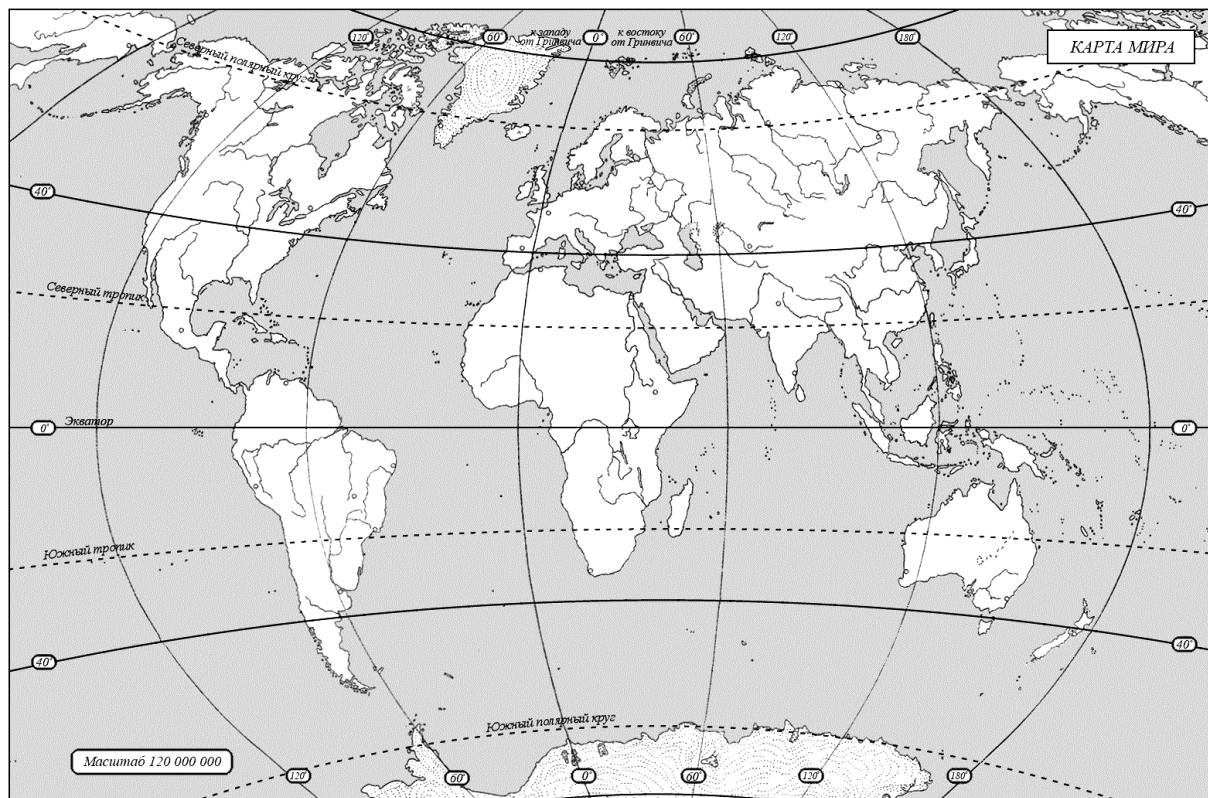
**9.3** Укажите не менее двух других животных, которых приручил человек в числе первых.

**Ответ:** свиньи, овцы, козы, коровы

**9.4** Напишите на карте название материка, который первобытные герои стихотворения могут назвать своей «прародиной».

**Ответ:** Африка





**Задание 10.** Выясни, насколько ты знаком с историей своей «малой родины» Югры.

**10.1.** Коренные народы Югры – ханты, манси и ненцы – всегда относились к природе с любовью и уважением. Местом религиозного почитания становились целые ландшафты в форме священных урочищ, где запрещались промыслы. Выбери священные места, где у коренных жителей Югры были запрещены промыслы.

1. Народная гора
2. Озеро Нумто
3. Барсова гора
4. Озеро Щучье





**Ответ: 2,3 (озеро Нумто и Барсова гора)**

**10.2** Выбери из списка профессиональные праздники, особо значимые для жителей Югры.

1. День моряка-подводника
2. День металлурга
3. День нефтяника
4. День работника атомной промышленности
5. День оленевода
6. День речного и морского флота

**Ответ: 3, 5, 6 (День нефтяника, День оленевода, День речного и морского флота)**

**10.3.** Соотнеси названия предметов быта коренных народов Севера с изображениями этих предметов, вписав в таблицу их номера. (4 балла)

1	2
	
3	4
	

**Ответ:**

облас	чум	нарты	лабаз
2	1	4	3

**ВСЕГО 75 БАЛЛОВ.**