

Всероссийская олимпиада по истории
2023–2024 учебный год
Школьный этап

7 класс

Уважаемый участник!

Время на выполнение работы – 90 минут.

Максимальное количество баллов – 100.

При выполнении работы внимательно читайте текст заданий.

Содержание ответа вписывайте в отведённые поля, записи ведите чётко и разборчиво.

Сумма набранных баллов за все решённые вопросы – итог вашей работы.

Задания считаются выполненными, если вы вовремя сдали их членам жюри.

Желаем успеха!

Задание 1. Выберите правильный ответ. Ответ внесите в таблицу. (По 2 балла за правильный ответ. Максимум 10 баллов.)

1.1. Прочтите отрывок из источника и укажите название документа, с которым он связан.

«Если холоп (раб, зависимый человек) ударит свободного мужа и скроется в хороме своего господина, а тот не захочет его выдавать, то оставляет холопа у себя и платит оскорблённому 12 гривен; а затем, если где встретит ударенный оскорбителя (холопа), то вправе побить его».

- 1) Русская Правда; 2) Судебник 1497 г.;
3) Салическая Правда; 4) Великая хартия вольностей.

1.2. Стремление укрепить государственную власть заставило князя Владимира:

- 1) учредить погосты и уроки; 2) принять христианство;
3) создать «Русскую Правду»; 4) убить киевских князей Аскольда и Дира.

1.3. Кому принадлежат слова?

«Англичане будут изгнаны из Франции, кроме тех, кто найдёт здесь гибель.... Бог пошлёт французам победу над англичанами!»

- 1) Жанне д' Арк; 2) Чёрному принцу; 4) Людовику XI; 3) Хлодвигу.

1.4. Прочитайте отрывок из произведения древнерусской литературы и укажите название этого произведения.

«В лето 862. Изгнали варягов за море, и не дали им дани, и начали сами собой владеть, и не было среди них правды, и встал род на род, и была у них усобица, и стали воевать друг с другом. И сказали себе:

- Поищем себе князя, который бы владел нами и судил по праву.

И пошли за море к варягам, к руси. Сказали руси чудь, словене, кривичи и весь:

- Земля наша велика и обильна, а наряда в ней нет. Приходите княжить и владеть нами!

И избрались трое братьев со своими родами, и пришли, сел старший Рюрик, в Новгороде, а другой, Синеус, - на Белоозере, а третий, Трувор, - в Изборске. И от тех варягов прозвалась Русская земля».

- 1) «Поучение детям»; 2) «Апостол»;
3) «Русская правда»; 4) «Повесть временных лет».

1.5. Прочитайте фрагмент исторического источника и определите, о каком историческом событии идёт речь.

«О, долго Англия была безумна,
Сама себя терзала в исступленьи:
Брат брата убивал в слепом бою,

Отец убийцей был родного сына,
 Сын по приказу убивал отца.
 Повинны в этом Йорки и Ланкастеры:
 Раздор их дикий рвал на части мир».

- 1) Столетняя война; 2) Реконкиста;
 3) Война Алой и Белой розы; 4) Гуситское движение.

Ответы:

1	2	3	4	5
1	2	1	4	3

Задание 2. Выберите несколько правильных вариантов ответов на поставленные вопросы. Ответ внесите в таблицу. (3 балла за полностью верный ответ; 1 балл за ответ с одной ошибкой (не указан один из верных ответов или наряду с указанными всеми верными ответами приводится один неверный). Всего за задания 9 баллов)

2.1. Кто из указанных деятелей культуры и науки жил в эпоху раннего Возрождения?

- 1) Иоганн Гутенберг; 2) Франческо Петрарка; 3) Авиценна;
 4) Сандро Боттичелли; 5) Альберт Эйнштейн; 6) Алкуин.

2.2. Какие из категорий населения, перечисленных в «Русской Правде», относятся к зависимым людям?

- 1) дружинник; 2) рядович; 3) огнищанин; 4) холоп; 5) муж; 6) закуп

2.3. Выберите из предложенного перечня события, относящиеся к XIII в.

- 1) создание «Правды» Ярославичей; 2) Ледовое побоище;
 3) Куликовская битва; 4) Невская битва;
 5) битва на реке Сить; 6) съезд князей в Любече.

Ответы:

1	2	3
124	246	245

Задание 3. Что с исторической точки зрения объединяет перечисленные в ряду элементы? (По 3 балла за каждый верный ответ. Максимум за задание 9 баллов).

3.1. Дмитрий Иванович, Дмитрий Боброк, Владимир Андреевич Серпуховской

Ответ: Куликовская битва

3.2. Стрибог, Перун, Ярило.

Ответ: Языческие боги

3.3. 1478 г., 1485 г., 1510 г

Ответ: Расширение территории Московского княжества

Задание 4. Выберите лишний элемент из предложенного списка и поясните свой выбор. (По 3 балла за каждый верный ответ. Всего за задание 6 баллов)

4.1. Дреговичи, поляне, древляне, половцы.

Ответ: : половцы- кочевые тюркские племена, а дреговичи, поляне, древляне – славяне, которые вели оседлый образ жизни

4.2. Баскак, ярлык, вече, выход.

Ответ: вече- народное собрание у славян, а термины баскак, ярлык, выход характеризуют ордынское владычество на Руси

Задание 5. Расположите события в хронологической последовательности. Ответ внесите в таблицу. (6 баллов за полностью верную последовательность. 3 балла за последовательность с одной ошибкой. 0 баллов, если допущено более одной ошибки)

- А) начало правления Ивана III; Б) провозглашение Карла Великого императором;
 В) языческая реформа князя Владимира; Г) захват Константинополя турками;
 Д) первое упоминание о Москве в летописи; Е) принятие Судебника при Иване III.

Ответы:

1	2	3	4	5	6
Б	В	Д	Г	А	Е

Задание 6. Установите соответствие между событиями и древнерусскими князьями, в чье правление они произошли. В перечне справа есть лишняя характеристика (1 балл за каждое верное соответствие. Максимум 4 балла.)

СОБЫТИЯ	ДРЕВНЕРУССКИЕ КНЯЗЬЯ
А) введение погостов и уроков	1) Олег
Б) объединение Новгорода и Киева под властью одного правителя	2) Владимир Мономах
В) разгром печенегов	3) Ярослав Мудрый
Г) съезд князей в Любече	4) Святослав Игоревич
	5) Ольга

Ответы:

А	Б	В	Г
5	1	3	2

Задание 7. Прочитайте текст и выберите правильный вариант из предложенного списка. Заполните таблицу. (1 балл за каждый верный ответ. Максимум 6 баллов)

Московский престол перешёл к Ивану Даниловичу Калите в (1) **(1380 году, 1325 году, 1340 году)**. В 1327 году вспыхнуло восстание в (2) **(Новгороде, Твери, Рязани)** против насилий, чинимых людьми Чолхана. Ненавистный баскак и почти все его воины были перебиты. Иван Калита немедленно воспользовался ситуацией. Вместе с другими русскими князьями он отправился к (3) **(Чингисхану, Батыю, Узбеку)**. На Русь они вернулись с ордынским отрядом, который вместе с дружинами князей обрушился на Тверь. Вскоре Иван Калита за это получил (4) **(поместье, кормление, ярлык)**. Летопись говорит о правлении Калиты: «...была оттоле тишина великая на (5) **(50 лет, 40 лет, 90 лет)**, и перестали поганые воевать Русскую землю и убивать христиан». Иван Калита зимой 1339-1340 гг. укрепил Московский Кремль (6) **(дубовыми стенами, красным кирпичом, белым камнем)**.

Ответы:

1	2	3	4	5	6
1325 г	Твери	Узбеку	ярлык	40 лет	дубовыми стенами

Задание 8. Внимательно рассмотрите карту «Российское государство во второй половине XV - начале XVI века» и выполните задания. (Максимум 12 баллов)



8.1. Напишите имя русского полководца XIII в., одержавшего победы над неприятелем в сражениях, отмеченных на карте цифрами «3» и «4». (2 балла)

Ответ: **Александр Невский**

8.2. Напишите цифру, которой обозначен город, в XIII в. героически оборонявшийся от захватчиков во главе с воеводой боярином Дмитрием (Дмитрием). (2 балла)

Ответ: **2**

8.3. Напишите название реки, на которой в 1223 г. произошла первая встреча русских войск с отрядами монголо-татар. (2 балла)

Ответ: **Калка**

8.4. Напишите, когда произошла битва, отмеченная на карте цифрой «4». (2 балла)

Ответ: **1240 год**

(№8.1-8.4 максимум 8 баллов)

8.5. Какие суждения, относящиеся к событиям, обозначенным на схеме стрелками, являются верными. Выберите четыре суждения из восьми предложенных. Запишите цифры, под которыми они указаны. (По 1 баллу за каждый верный ответ. Всего 4 балла)

1) Первым русским городом, принявшим на себя удар монголо-татар под командованием хана Батые в 1237 г., была Рязань.

2) После ухода монголо-татарского войска из разгромленной Рязани, захватчики подверглись нападению отряда под командованием рязанского боярина Евпатия Коловрата.

3) На территории Владимиро-Суздальского княжества монголо-татары потерпели своё первое поражения от войск князя Юрия Всеволодовича

4) Псков сумел отстоять свою независимость в период вторжения рыцарей Ливонского ордена на русские земли в первой половине XIII в.

5) Столицей образовавшейся Золотой Орды стал в 1243 г. город Сарай (Сарай-Бату)

6) Сражение, отмеченное на карте цифрой «4» произошло в один год с героической обороной и падением Киева.

7) В 1238 году состоялась битва на реке Сить.

8) Киев был захвачен монголо-татарами в 1238 году.

Ответы:

1	2	6	7
----------	----------	----------	----------

Задание 9. Перед вами изображения исторических событий, определите какое событие изображено и укажите его дату с точностью до года. (По 1 баллу за каждый верный ответ. Максимум – 8 баллов).

1	2
	
3	4
	

Ответы:

№	Событие	Дата
1	Крещение Руси	988
2	Призвание варягов	862
3	Осада и взятие монголо-татарами Рязани	1237
4	Ледовое побоище	1242

Задание 10. По эпизодам жизни исторических персонажей определите, о ком речь. По 2 балла за каждую правильно названную историческую личность. Всего 4 балла

10.1. Кто это? **Жанна д'Арк**

- прославившая ее битва произошла под Орлеаном;
- ее объявили колдуньей и предали церковному суду, а четыре с половиной века спустя возвели в ранг католической святой;
- по официальной версии она публично сожжена в Руане 12 мая 1431 года.

10.2. Кто это? Святослав (Святослав Игоревич)





- Князь - полководец
- «Иду на вы»
- Разгромил Хазарский каганат
- Необычная посмертная судьба

Задание 11. Заполните таблицу: укажите имя правителя, название архитектурных памятников, которые были заложены или построены во время их правления, город, в котором находится каждый представленный памятник архитектуры. (По 1 баллу за каждый компонент. Максимум 16 баллов)

Правители

1	2
	
3	4
	

Памятники архитектуры

<p>1</p> 	<p>2</p> 
<p>3</p> 	<p>4</p> 

Ответы:

№ портрета правителя	Имя правителя	№ памятника архитектуры	Название памятника архитектуры	В каком городе находится (название)
1	Андрей Боголюбский	4	Золотые ворота	Владимир
2	Всеволод Большое Гнездо	1	Дмитриевский собор	Владимир
3	Ярослав Мудрый	2	Собор Святой Софии/ Софийский собор	Киев
4	Иван III	3	Успенский собор	Москва

Задание 12. Напишите термин. (По 2 балла за каждый правильный ответ. Максимум 4 балла)

12.1. Метрология – это наука, изучающая меры длины, веса, объема. Перед вами загадка из области метрологии.

Эта старинная единица измерения длины носит название той части тела, которую, судя по известной поговорке, невозможно укусить. Назовите эту меру длины, которой пользовались наши предки.

Ответ: Локоть

12.2. Разгадайте шарadu.

Первое - небольшой ресторан, где посетителей обслуживают за стойкой,
второе - русское национальное блюдо,
третье - предлог,

целое слово - одна из феодальных повинностей.

Ответ: **Бар-щи-на**

Задание 13. Рассмотрите гербы городов Югры и ответьте на вопросы (2 балла за каждый правильный ответ, максимум 6 баллов)



13.1. Выпишите букву, обозначающую герб города, название которого в переводе означает «рыбное место».

Ответ: **Г**

13.2. В каком году был основан этот город, как он называется?

Ответ: **1594 год, Сургут**

13.3. Какие знаменитые люди жили (живут) в этом городе?

Ответ: **Фарман Салманов, Алексей Ашпатов и др. (любые правильные ответы)**

Максимальное количество баллов за все задания – 100